


28 Přiřadte k jednotlivým obrázkům (28.1–28.4) odpovídající popis (A–F).

(Každou možnost z nabídky A–F můžete přiřadit pouze jednou. Dvě možnosti zbudou a nebudou použity.)


28.1




28.2



28.3



28.4




(CZVV)

- A) Alespoň tři bílí hráči jsou na tmavé části hřiště. Na bílé části hřiště je lichý počet hráčů. V černém týmu je více dívek než chlapců.
- B) Alespoň jeden bílý hráč je na bílé části hřiště. Na tmavé části hřiště je sudý počet chlapců. V bílém týmu je shodný počet chlapců a dívek.
- C) Na bílé části hřiště je lichý počet chlapců. Více než dva bílí hráči jsou na tmavé části hřiště. V černém týmu je shodný počet chlapců a dívek.
- D) Na tmavé části hřiště je lichý počet dívek. Na bílé části hřiště jsou alespoň dva hráči z černého týmu. V bílém týmu je více dívek než chlapců.
- E) Alespoň jedna dívka z bílého týmu je na tmavé části hřiště. Na bílé části hřiště je lichý počet hráčů. V černém týmu je shodný počet chlapců a dívek.
- F) Na tmavé části hřiště je lichý počet černých hráčů. Ze všech hrajících dívek je pouze jedna na bílé části hřiště. V bílém týmu je více chlapců než dívek.

Vysvětlivky:

Na celém hřišti jsou čtyři hráči.

bílá část hřiště, na níž
v tomto případě hrají
dva chlapci
(tzn. jeden bílý hráč
a jeden černý hráč)



tmavá část hřiště, na níž
v tomto případě hrají
dvě dívky z bílého týmu
(tzn. dva bílí hráči)