



28 Přiřadte k jednotlivým obrázkům (28.1–28.4) odpovídající popis (A–F).

(Každou možnost z nabídky A–F můžete přiřadit pouze jednou. Dvě možnosti zbudou a nebudou použity.)


28.1




28.2



28.3



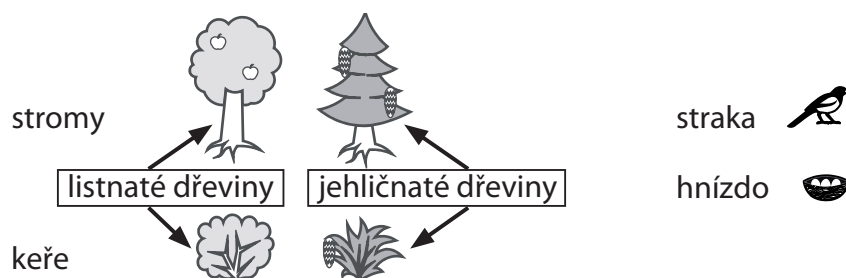
28.4



(CZV)

- A) Celkový počet strak je lichý. Polovina ze všech hnízd je na stromech. Listnatých stromů je méně než jehličnatých.
- B) Listnatých dřevin je lichý počet. Stromů není méně než keřů. Na všech keřích dohromady je více strak než hnízd.
- C) Listnatých stromů je lichý počet. Polovinu ze všech jehličnatých dřevin tvoří keře. Na všech stromech dohromady je více hnízd než strak.
- D) Jehličnatých dřevin je sudý počet. Na keřích je méně strak než na stromech. Počet hnízd na stromech není shodný s počtem hnízd na keřích.
- E) Jehličnatých stromů je sudý počet. Na všech stromech dohromady je méně strak než hnízd. Počet hnízd na stromech je shodný s počtem hnízd na keřích.
- F) Celkový počet hnízd je sudý. Méně než polovinu ze všech listnatých dřevin tvoří stromy. Počet jehličnatých stromů není shodný s počtem jehličnatých keřů.

Vysvětlivky:



ZKONTROLUJTE, ZDA JSTE DO ZÁZNAMOVÉHO ARCHU UVEDL/A VŠECHNY ODPOVĚDI.